

aiの 七ツおにぎり

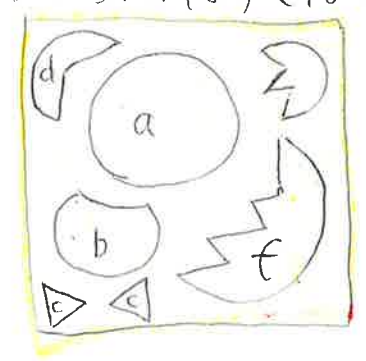
読み方
 C ⇒ テーズ
 K ⇒ カニカマ
 / ⇒ 半分のせる。

5色
 あられ
 数個

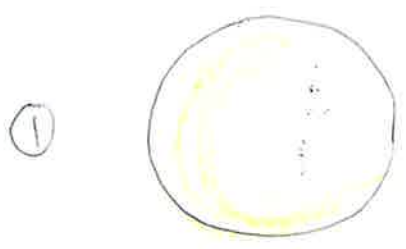


• aおにぎり 1個

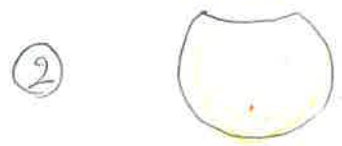
【ポイント】 スライスチーズを妻ようじで
 下の様にくりぬく。
 セロハンからははずさない



• カニカマの白い所を使う




$ac1 + aおにぎり / ak$



$bc1 + aおにぎり$



$cc2 + aおにぎり$



$+ aおにぎり$

⑤ $ak2 + aおにぎり$

⑥ $bk2 + aおにぎり / ac$

⑦ $FE\eta - F\text{ス}1 + ac = aFE\eta - F\text{ス}$

⑧ $\alpha 2 + ac$

⑨ $\alpha 1 + aFE\eta - F\text{ス}$